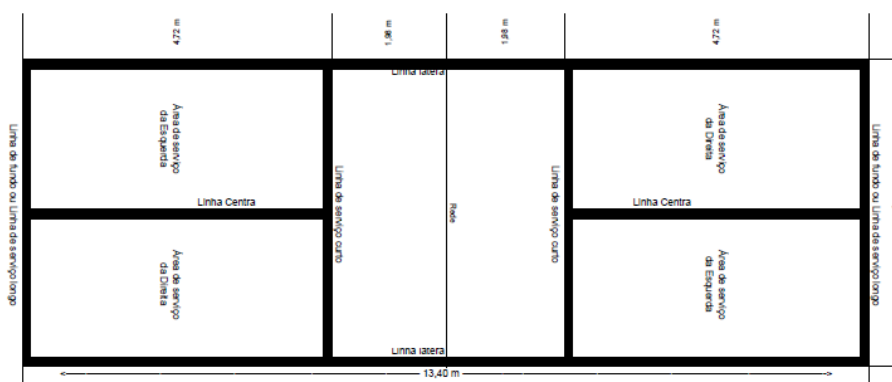


## Ficha de Trabalho de Educação Física

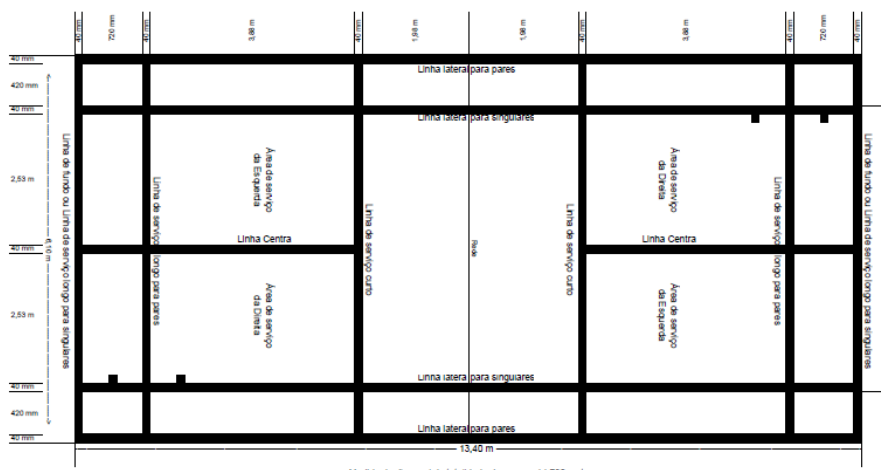
### BADMINTON (CORREÇÃO)

Responde às questões que se seguem sobre a modalidade de Badminton.

1. Desenha um campo de Badminton, para a modalidade de singulares.



2. Desenha um campo de Badminton, para a modalidade de pares.



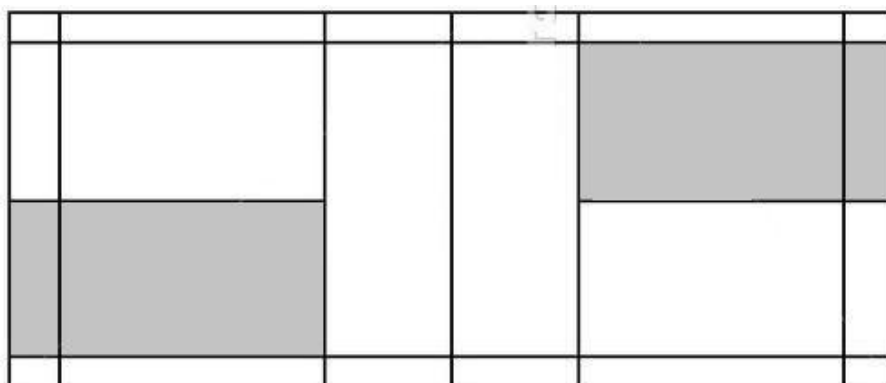
3. Indica o material necessário para a prática da modalidade.

**Raquetes e Volantes.**

4. Indica as vertentes competitivas da modalidade.

**Singulares Masculinos, Singulares Femininos, Pares Masculinos, Pares Femininos e Pares Mistos.**

5. Indica o nome de cinco gestos técnicos.  
**Serviço (curto e comprido), Clear, Drive, Lob, Amortie e Remate.**
6. Uma partida de Badminton é jogada à melhor de 3 sets, saindo vencedor o jogador que ganhar 2 sets.
7. Um jogador vence um jogo quando atinge 21 pontos, com uma diferença de 2 pontos do adversário.
8. Quando um jogo estiver empatado a 29 pontos, este termina aos 30 pontos.
9. Os jogadores devem servir e receber dentro da área de serviço do lado **direito** respetivo, sempre que a pontuação do servidor seja par nesse jogo, ou ainda não tenha sido marcado nenhum ponto.
10. Os jogadores devem servir e receber dentro da área de serviço do lado **esquerdo** respetivo, sempre que a pontuação do servidor seja ímpar nesse jogo.
11. Identifica a área de serviço do lado direito no campo que desenhaste para a modalidade de singulares (pergunta 1).



12. Identifica a área de serviço do lado esquerdo no campo que desenhaste para a modalidade de pares (pergunta 2).

